

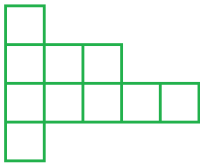
## Vienādas figūras

### Ceļvedis lietotājam

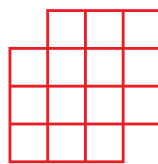
- Izdales materiāls noderēs gan skolēniem tēmas apguvei, gan skolotājiem kā darba lapa vielas nostiprināšanai;
- darba veikšanai nepieciešami rakstāmpiederumi un lineāls.

**1.uzdevums.** Pa rūtiņu līnijām sadali figūras divās vienādās daļās.

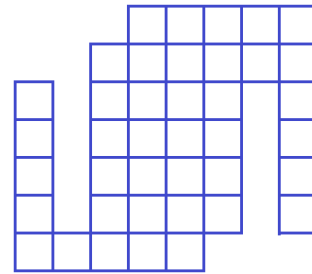
1.



2.

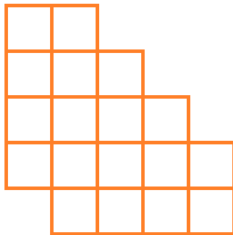


3.

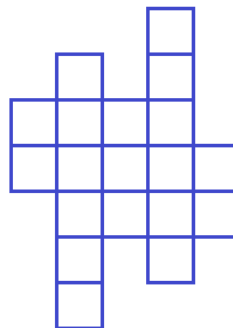


**2.uzdevums.** Sadali figūru divās vienādās daļās.

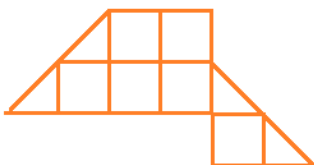
1.



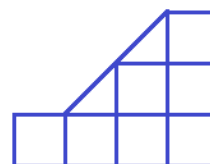
2.



3.

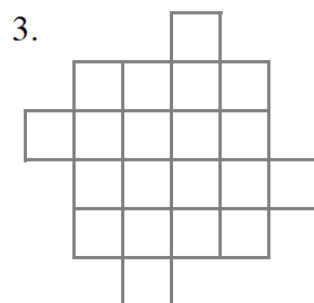
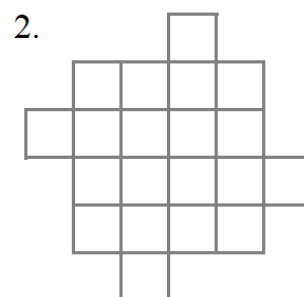
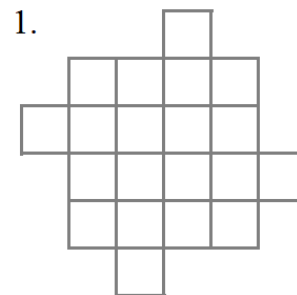
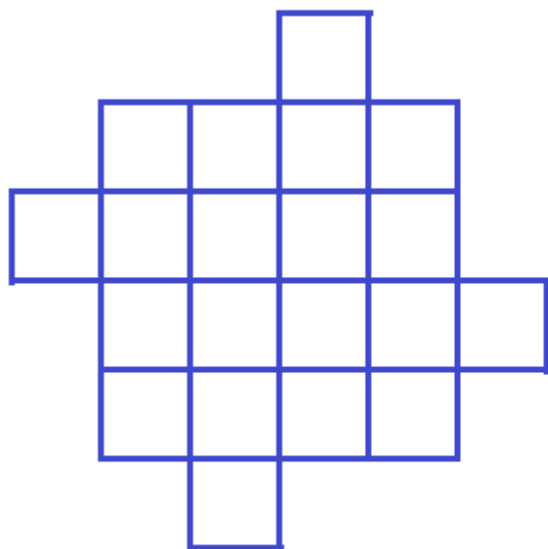


4.




**Kods:** MAT-7.2.2 **Priekšmets, temata nosaukums:** Matemātika 7.klase. Kā definē ģeometriskas figūras?  
**Video nosaukums:** Vienādas figūras.

**3.uzdevums.** Sadali doto figūru četrās vienādās daļās. Parādi vismaz 3 dažādus risinājumus.



**4.uzdevums.** Sadali figūru četrās vienādās daļās, tā li katrā no tām būtu tikai viena zemenīte

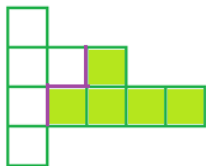


**Kods:** MAT-7.2.2 **Priekšmets, temata nosaukums:** Matemātika 7.klase. Kā definē ģeometriskas figūras?  
**Video nosaukums:** Vienādas figūras.

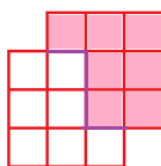
Atbildes.

1.uzdevums

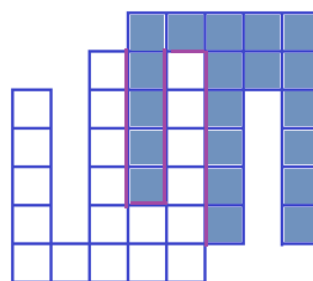
1.



2.

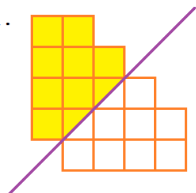


3.

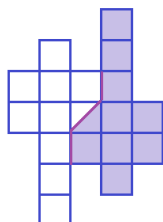


2.uzdevums.

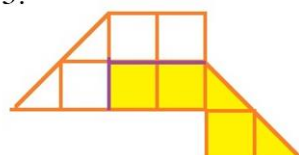
1.



2.



3.

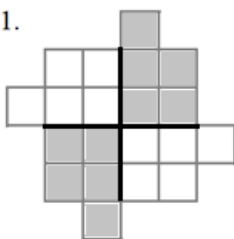


4.

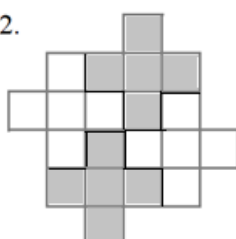


3.uzdevums

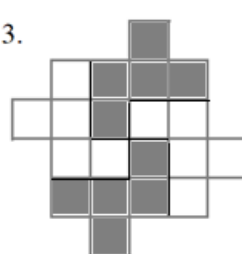
1.



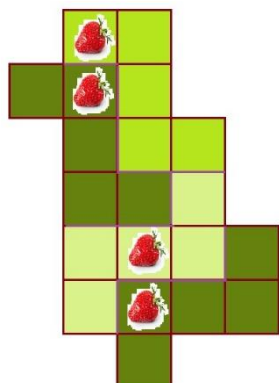
2.



3.



4.uzdevums



*Autore: Digna Gūtmane*